

# 実技・要素試験（穿孔）

[平成31年4月20日実施]

[ 1 ]

(イ)



(ロ)



(ハ)




(ニ)






[ 2 ]

(イ)



(ロ)



(ハ)



(ニ)





[ 3 ]

(イ)



(ロ)



(ハ)




(ニ)



[ 4 ]


(イ)



(ロ)



(ハ)



(ニ)





[ 5 ]

(イ)



(ロ)



(ハ)



(ニ)



[平成31年4月20日実施]

受験番号 \_\_\_\_\_

氏 名 \_\_\_\_\_

コンクリート等切断穿孔技能審査試験 実技試験(要素試験)問題(穿孔)

試験時間 20分

[ 1 ] 穿孔工事において、コードリールの配線で、適切なものを記号で示せ。

( ハ )

[ 2 ] 穿孔工事に使用する写真の工具名を名称の下のカッコ内に記号で示せ。

ハートトランス      コア抜きワイヤー      中間ロット      レジューサ  
( イ )      ( ロ )      ( ハ )      ( ニ )

[ 3 ] 穿孔工事に使用する写真の工具名を名称の下のカッコ内に記号で示せ。

打込棒      水平器      ダストポンプ      パーマルレンチ  
( ロ )      ( ニ )      ( イ )      ( ハ )

[ 4 ] 横向き穿孔工事において、水処理パットの取り付けで、最も適切なものを記号で示せ。

( ハ )

[ 5 ] 連結したチューブを緩めて外す場合、パーマルレンチの正しい使い方のものを記号で示せ。

( イ )

合計 \_\_\_\_\_ 点